

ASSUNTO:	NOTA FISCAL
ETAPA DE ENSINO: Ensino Fundamental I 1º ANO	Habilidades prevista no Currículo de Referência de Mato Grosso do Sul (MS.EF01MA08.s.10) Resolver e elaborar problemas de adição e de subtração, envolvendo números de até dois algarismos, com os significados de juntar, acrescentar, separar e retirar, com o suporte de imagens e/ou material manipulável, utilizando estratégias e formas de registro pessoais. (MS.EF01MA09.s.11) Organizar e ordenar objetos familiares ou representações por figuras, por meio de atributos, tais como cor, forma e medida.
Componente Curricular/Disciplina:	Matemática Operação de adição e forma dos objetos

1- COLOQUE O NÚMERO CORRETO NA FIGURA EM BRANCO:



Quantas operadoras de caixa tem dentro do círculo?



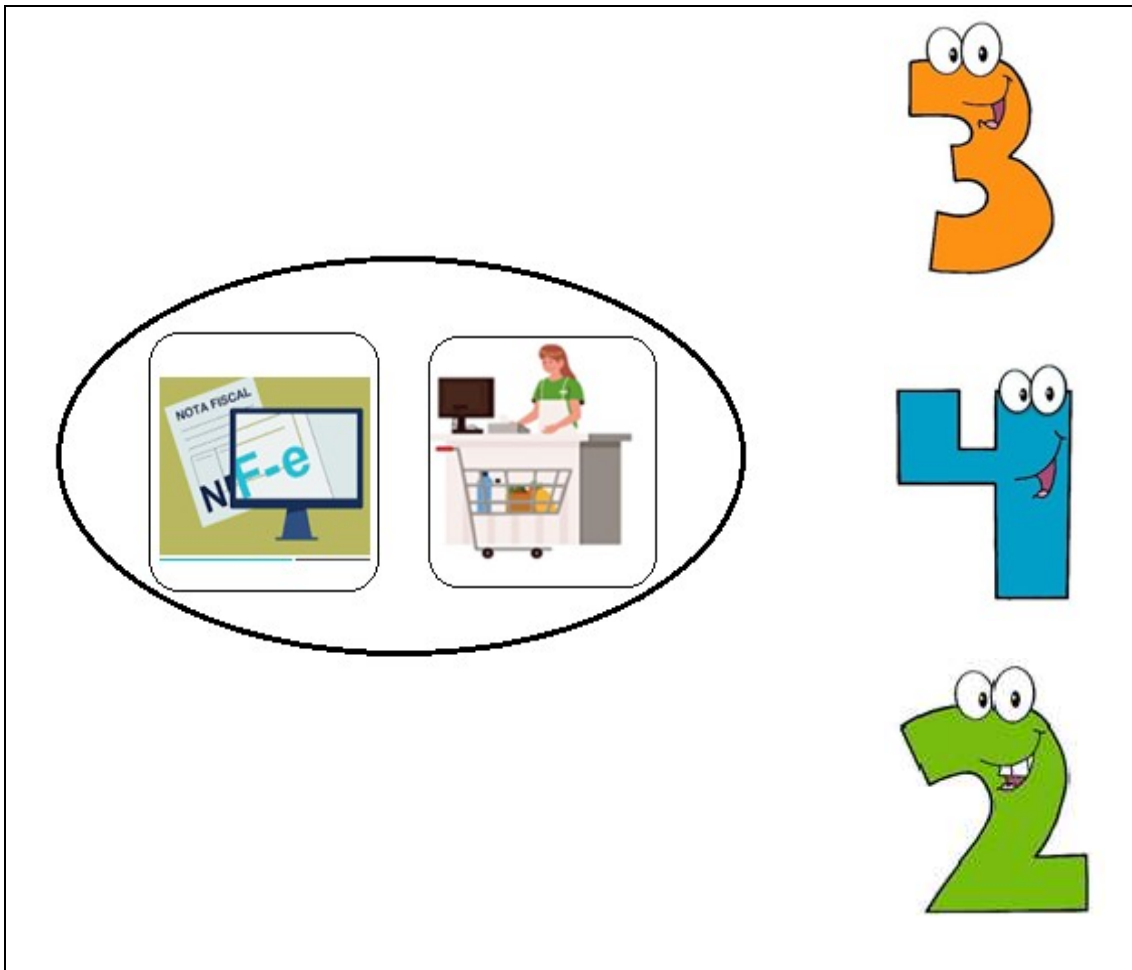
Quantas máquinas registradoras tem dentro do triângulo?



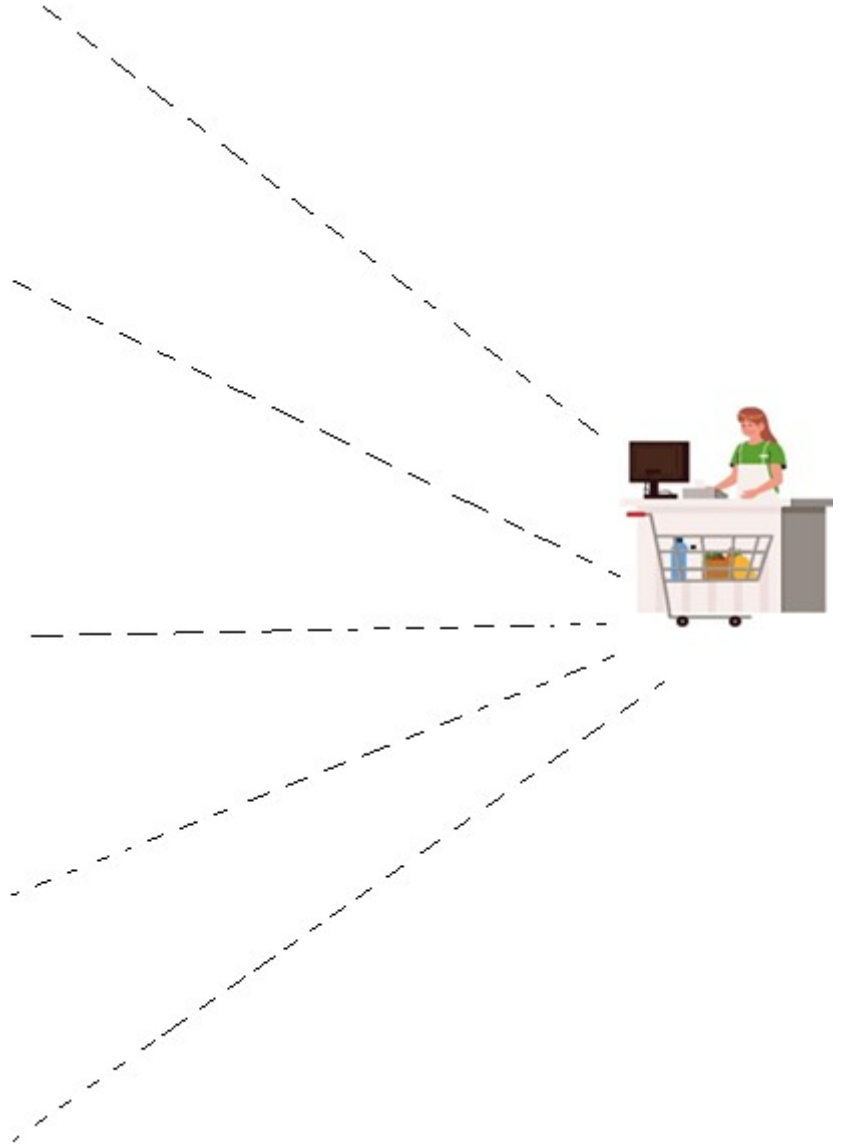
Some o número do círculo e do triângulo e coloque no retângulo abaixo:



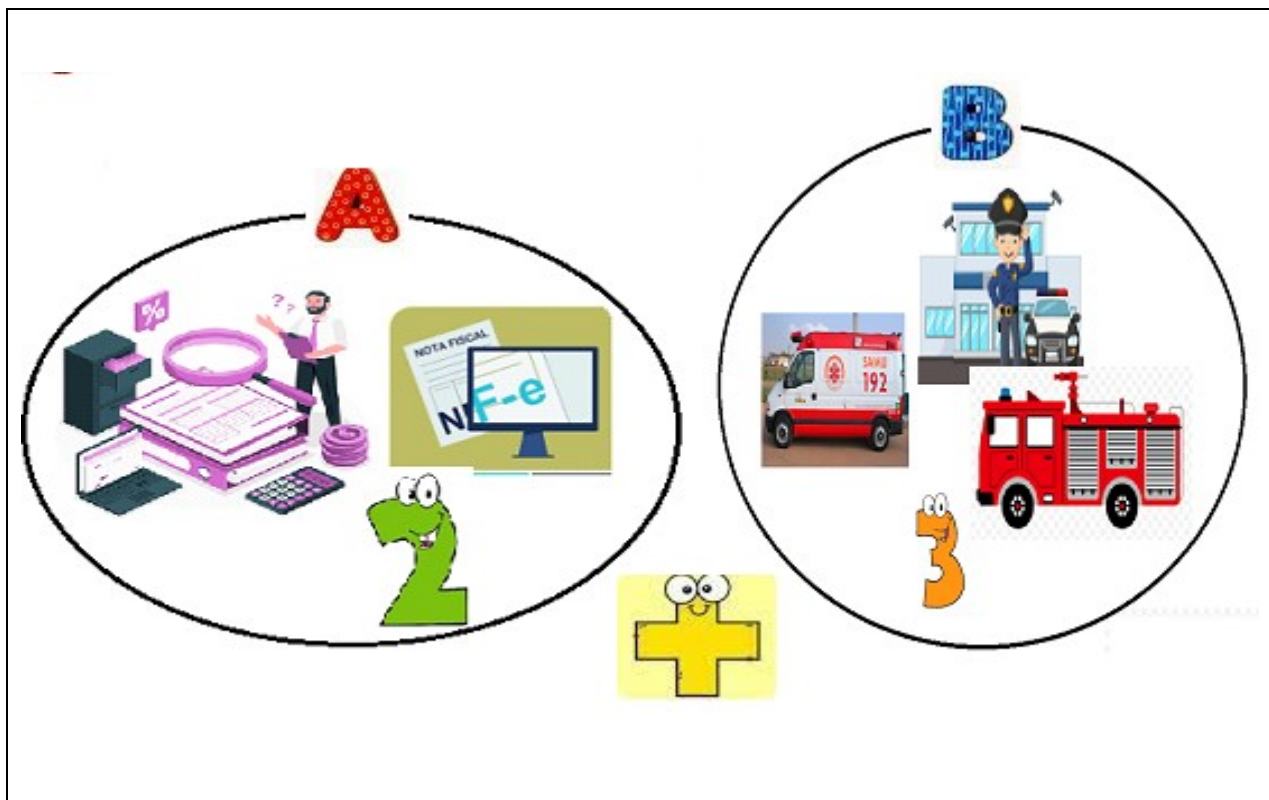
2- FAÇA UM TRAÇO LIGANDO O NÚMERO DE ELEMENTOS QUE TEM NO CÍRCULO ABAIXO:



3- COMPLETE A LINHA TRACEJADA LIGANDO A CADA NOTA FISCAL COM A OPERADORA DE CAIXA. E CIRCULE O NÚMERO DE NOTAS QUE FORAM LIGADAS ATÉ A MOÇA DO CAIXA.



4- SOME OS ELEMENTOS DO CONJUNTO A COM O CONJUNTO B



SOMA: 



ENDEREÇOS DAS IMAGENS USADAS:

https://img.freepik.com/vetores-premium/policial-de-desenho-animado-parado-no-predio-do-departamento-de-policia-da-cidade_29190-6579.jpg?w=900

<https://encrypted-tbn0.gstatic.com/images?q=tbn:ANd9GcSzp6K0904NApwaXQmawsvRAsqGbp6eiX245kWAi9YncILLeIzRezqTd0XMYNqqI9KH1ZM&usqp=CAU>

http://educacao.sme.prefeitura.sp.gov.br/wp-content/uploads/Portals/1/Imagens/noticias_fevereiro_2016/25173.jpg

Gabarito:

Questão 1:	$2+1 = 3$
Questão 2:	
Questão 3:	Linha tracejada completada pelo estudante. 
Questão 4:	